

Tópico 5

1 (Unifei-MG) Um estudante construiu uma caixa retangular provida de uma lente biconvexa de distância focal $f = 50,0$ mm e pretende usá-la como máquina fotográfica. A distância entre a lente e a parte posterior da caixa onde será registrada a imagem pelo filme é de 150 mm. A que distância à frente da lente deve se localizar um objeto para que sua foto fique perfeitamente focalizada?

Resolução:

Gauss: $\frac{1}{f} = \frac{1}{p} + \frac{1}{p'}$

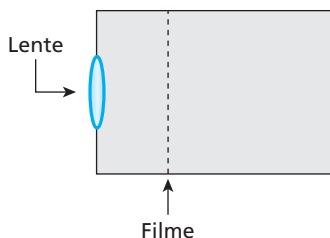
$$\frac{1}{50,0} = \frac{1}{p} + \frac{1}{150}$$

$$\frac{1}{p} = \frac{1}{50,0} - \frac{1}{150} \Rightarrow \frac{1}{p} = \frac{3-1}{150} = \frac{2}{150}$$

$p = 75,0$ mm

Resposta: 75,0 mm

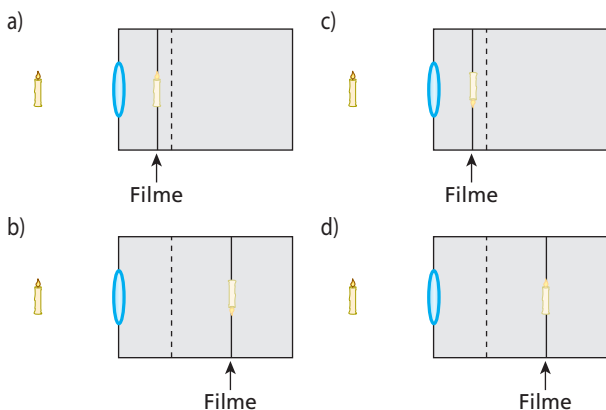
2 (UFMG) Rafael, fotógrafo lambe-lambe, possui uma câmara fotográfica que consiste em uma caixa com um orifício, onde é colocada uma lente. Dentro da caixa, há um filme fotográfico, posicionado a uma distância ajustável em relação à lente. Essa câmara está representada, esquematicamente, nesta figura:



Para produzir a imagem nítida de um objeto muito distante, o filme deve ser colocado na posição indicada pela linha tracejada. No entanto, Rafael deseja fotografar uma vela que está próxima a essa câmara.

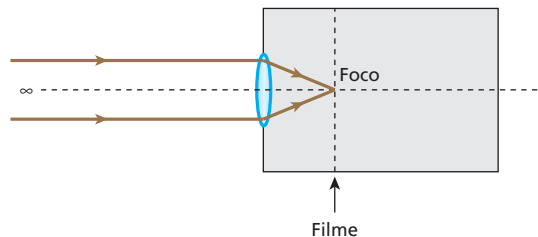
Para obter uma imagem nítida, ele, então, move o filme em relação à posição acima descrita.

Indique a alternativa cujo diagrama melhor representa a posição do filme e a imagem da vela que é projetada nele.

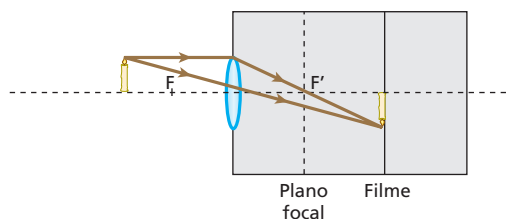


Resolução:

(I) **Objeto muito distante:** A imagem é formada no plano focal da lente.



(II) **Vela próxima à câmara:** A imagem projetada sobre o filme é real, invertida e está situada além do plano focal da lente.



Resposta: b

3 A lente de um projetor de slides está a uma distância de 4,1 m da tela de projeção. Um slide de 35 mm de altura tem sua imagem projetada na tela com 1,4 m de altura. Qual a distância focal da lente do equipamento?

Resolução:

$$(I) \frac{i}{o} = -\frac{p'}{p}$$

$$-\frac{1400}{35} = -\frac{4,1}{p}$$

$p = 0,1025$ m = 10,25 cm

$$(II) \frac{1}{f} = \frac{1}{p} + \frac{1}{p'}$$

$$\frac{1}{f} = \frac{1}{10,25} + \frac{1}{410}$$

$$\frac{1}{f} = \frac{410 + 10,25}{4202,5}$$

$$f = \frac{4202,5}{420,25} \text{ (cm)}$$

$f = 10$ cm

Resposta: 10 cm

4 Deve-se projetar em uma tela a imagem de um slide que se encontra a 5,0 cm da lente do projetor. Sabendo que as alturas do slide e de sua imagem valem, respectivamente, 3,0 cm e 180 cm, calcule:

- a) a distância da tela à lente do projetor;
- b) a distância focal da lente do projetor.

Resolução:

a) $\frac{i}{o} = -\frac{p'}{p} \Rightarrow -\frac{180}{3,0} = -\frac{p'}{5,0}$

$p' = 300 \text{ cm} = 3,0 \text{ m}$

b) $\frac{1}{f} = \frac{1}{p} + \frac{1}{p'}$

$\frac{1}{f} = \frac{1}{5,0} + \frac{1}{300} \Rightarrow f \approx 4,9 \text{ cm}$

Respostas: a) 3,0 m; b) $\approx 4,9 \text{ cm}$

5 Uma lupa com 5,0 cm de distância focal amplia cinco vezes o tamanho de um pequeno objeto luminoso. Nessas condições, determine a distância entre o objeto e sua imagem.

Resolução:

$A = \frac{f}{f - p}$

$5 = \frac{5,0}{5,0 - p} \Rightarrow p = 4,0 \text{ cm}$

$A = -\frac{p'}{p} \Rightarrow 5 = -\frac{p'}{4,0}$

$p' = -20 \text{ cm}$

$d = |p'| - p = 20 - 4,0 \Rightarrow d = 16 \text{ cm}$

Resposta: 16 cm

6 (Fatec-SP) Um colecionador examina um selo com uma lupa localizada a 2,0 cm do selo e observa uma imagem 5 vezes maior.

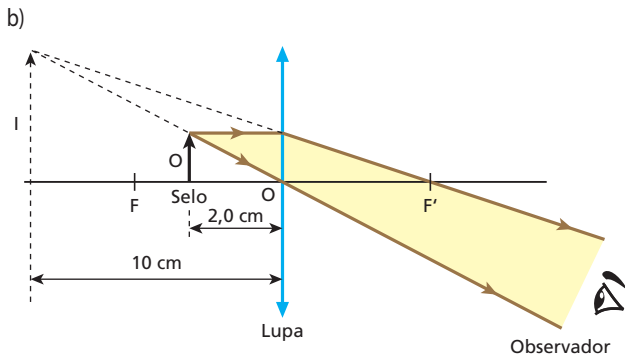
- a) Determine a distância focal da lupa.
- b) Faça, em seu caderno, um esquema gráfico dos raios de luz representando a lupa, o selo, a imagem do selo e o olho do colecionador.

Resolução:

a) $A = \frac{f}{f - p} \Rightarrow 5 = \frac{f}{f - 2,0}$

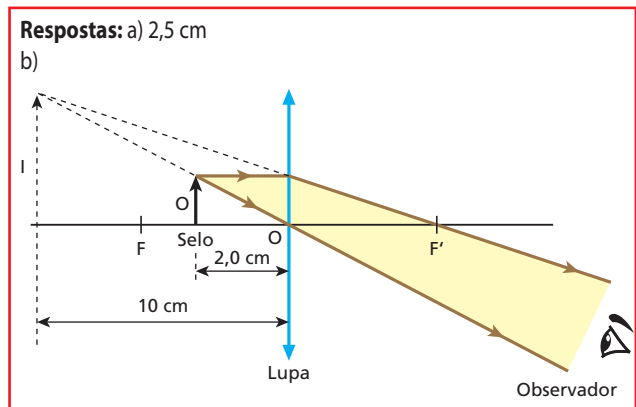
$5f - 10 = f \Rightarrow 4f = 10$

$f = 2,5 \text{ cm}$

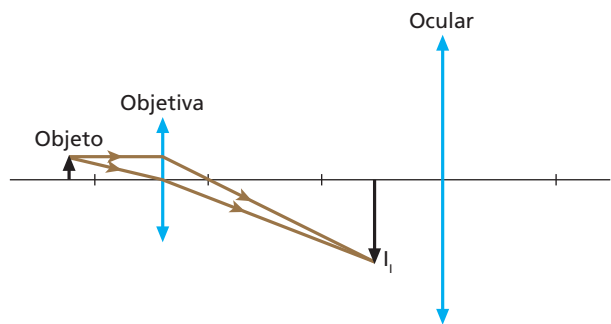


$A = -\frac{p'}{p} \Rightarrow 5 = -\frac{p'}{2,0}$

$p' = -10 \text{ cm}$



7 (Unesp-SP) Em uma aula sobre óptica, o professor explica aos seus alunos o funcionamento básico de um microscópio óptico composto, que pode ser representado por duas lentes convergentes, a objetiva e a ocular. Quando o objeto a ser visualizado é colocado próximo à objetiva, uma imagem ampliada I_I é formada entre a ocular e o foco da ocular, como esquematizado na figura. Essa imagem é, então, ampliada pela ocular, gerando a imagem I_{II} , vista pelo observador.

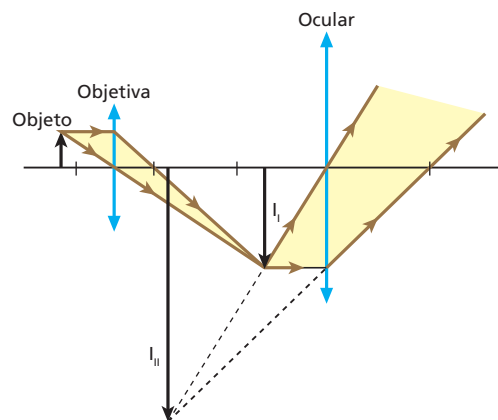


Sendo assim:

- a) copie a figura em seu caderno e complete-a com raios de luz que mostrem a formação da imagem I_{II} gerada pela ocular;
- b) classifique como real ou virtual as imagens I_I e I_{II} .

Resolução:

a) Completando a figura fornecida, temos:

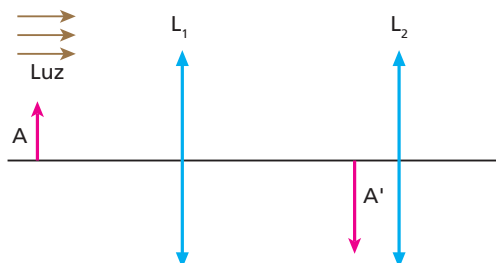


- b) Classificação das imagens:
 - a) imagem I_I é **real** (formada por um feixe cônico convergente);
 - a) imagem I_{II} é **virtual** (formada por um feixe cônico divergente).

Respostas: a)

b) I_I é real e I_{II} é virtual.

8 Um objeto **A** está situado a 5 cm de uma lente convergente L_1 , cuja distância focal é de 4 cm. Uma segunda lente convergente, idêntica à anterior, é colocada a 2 cm de distância da imagem A' conjugada por L_1 . A figura ilustra a situação descrita:



- a) A que distância de L_1 encontra-se L_2 ?
- b) Qual a ampliação total do sistema L_1L_2 ?

Resolução:

a) **Lente L_1 :**

$$\frac{1}{f_1} = \frac{1}{p_1} + \frac{1}{p'_1}$$

$$\frac{1}{4} = \frac{1}{5} + \frac{1}{p'_1} \Rightarrow p'_1 = 20 \text{ cm}$$

$$L_1L_2 = p'_1 + 2 \text{ cm} = 20 \text{ cm} + 2 \text{ cm}$$

$$L_1L_2 = 22 \text{ cm}$$

b) $|A| = |A_1| \cdot |A_2|$

Lente L_1 :

$$|A_1| = \frac{20 \text{ cm}}{5 \text{ cm}} \Rightarrow |A_1| = 4$$

Lente L_2 :

$$\frac{1}{f_2} = \frac{1}{p_2} + \frac{1}{p'_2}$$

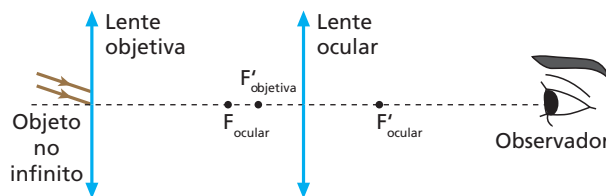
$$\frac{1}{4} = \frac{1}{2} + \frac{1}{p'_2} \Rightarrow p'_2 = -4 \text{ cm}$$

$$|A_2| = \frac{4 \text{ cm}}{2 \text{ cm}} \Rightarrow |A_2| = 2$$

$$\text{Assim: } |A| = 4 \cdot 2 \Rightarrow |A| = 8$$

Respostas: a) 22 cm; b) 8 vezes

9 (UFF-RJ – mod.) A utilização da luneta astronômica de Galileu auxiliou na construção de uma nova visão do Universo. Esse instrumento óptico, composto por duas lentes – **objetiva** e **ocular** –, está representado no esquema a seguir.

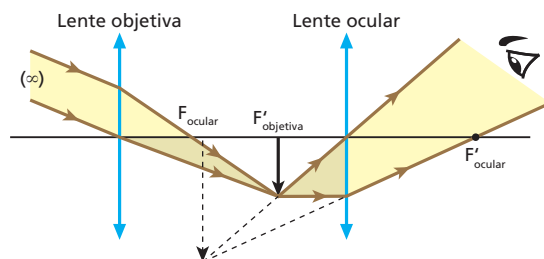


Considere a observação de um astro no “infinito” por meio da luneta astronômica de Galileu. Nesse caso, as imagens do objeto formadas pelas lentes objetiva e ocular são, respectivamente:

- a) real e direita em relação ao astro; virtual e direita em relação à imagem da objetiva.
- b) real e invertida em relação ao astro; virtual e invertida em relação à imagem da objetiva.
- c) virtual e invertida em relação ao astro; real e invertida em relação à imagem da objetiva.
- d) virtual e direita em relação ao astro; real e invertida em relação à imagem da objetiva.
- e) real e invertida em relação ao astro; virtual e direita em relação à imagem da objetiva.

Resolução:

A imagem real e invertida que a objetiva gera no seu plano focal (F'_{objetiva}) funciona como objeto real para a ocular. Essa lente, por sua vez, opera como lupa, produzindo uma imagem virtual e direita (em relação ao objeto que lhe deu origem), que será contemplada pelo observador. O esquema abaixo ilustra o funcionamento da luneta.



Resposta: e

10 E.R. A objetiva de uma câmera fotográfica tem distância focal de 100 mm e é montada num mecanismo tipo fole, que permite seu avanço e retrocesso. A câmera é utilizada para tirar duas fotos: uma aérea e outra de um objeto distante 30 cm da objetiva.

- a) Qual o deslocamento da objetiva, de uma foto para a outra?
- b) Da foto aérea para a outra, a objetiva afasta-se ou aproxima-se do filme?

Resolução:

a) Na obtenção da foto aérea, o motivo da foto comporta-se como objeto impróprio. Por isso, sua imagem forma-se no plano focal da objetiva. Assim:

$$p'_1 \approx f$$

Logo:

$$p'_1 = 100 \text{ mm}$$

Para a outra foto, tem-se:

$$\frac{1}{f} = \frac{1}{p} + \frac{1}{p'} \Rightarrow \frac{1}{100} = \frac{1}{300} + \frac{1}{p'_2}$$

$$p'_2 = 150 \text{ mm}$$

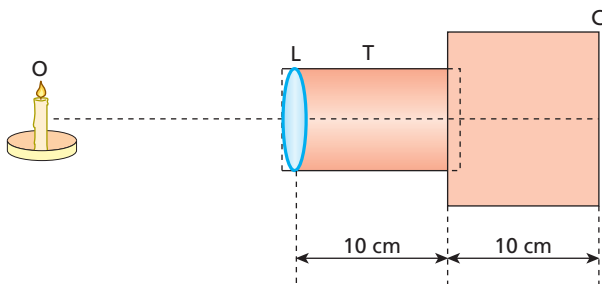
Seja d o deslocamento pedido. Então, é correto que:

$$d = p'_2 - p'_1 \Rightarrow d = 150 \text{ mm} - 100 \text{ mm}$$

$$d = 50 \text{ mm}$$

- b) Como $p'_2 > p'_1$, pode-se concluir que da foto aérea para a outra a objetiva afasta-se do filme.

11 Um fotógrafo amador criou um dispositivo capaz de projetar imagens no fundo de uma câmara. Tal dispositivo, esquematizado a seguir, é composto por uma lente esférica convergente (L), de distância focal 12 cm, um tubo móvel (T) e uma câmara escura (C).



Ao se formar uma imagem nítida no fundo da câmara, o objeto luminoso (O) encontra-se a 60 cm da lente.

- a) Calcule quanto foi necessário deslocar o tubo, em relação à posição inicial indicada na figura acima, para focalizar a imagem nítida no fundo da câmara.
b) Dê as características dessa imagem.

Resolução:

- a) Do enunciado, temos: $f = 12 \text{ cm}$ e $p = 60 \text{ cm}$
Utilizando a Equação de Gauss, vem:

$$\frac{1}{f} = \frac{1}{p} + \frac{1}{p'}$$

$$\frac{1}{12} = \frac{1}{60} + \frac{1}{p'}$$

$$p' = 15 \text{ cm}$$

Concluimos, portanto, que a distância da lente à imagem (fundo da câmara) é de 15 cm. Assim, para ajustar a posição da lente, devemos aprofundar o tubo 5 cm.

- b) Utilizando a equação do Aumento Linear Transversal, vem:

$$A = -\frac{p'}{p}$$

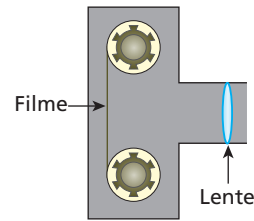
$$A = -\frac{15}{60}$$

$$A = -\frac{1}{4}$$

Assim, podemos afirmar que a imagem é real ($p' > 0$), invertida ($A < 0$) e quatro vezes menor que o objeto.

Respostas: a) 5 cm; b) Real, invertida e menor ($A = -\frac{1}{4}$)

12 (Unesp-SP) Uma câmara fotográfica rudimentar utiliza uma lente convergente de distância focal $f = 50 \text{ mm}$ para focalizar e projetar a imagem de um objeto sobre o filme. A distância da lente ao filme é $p' = 52 \text{ mm}$. A figura mostra o esboço dessa câmara.

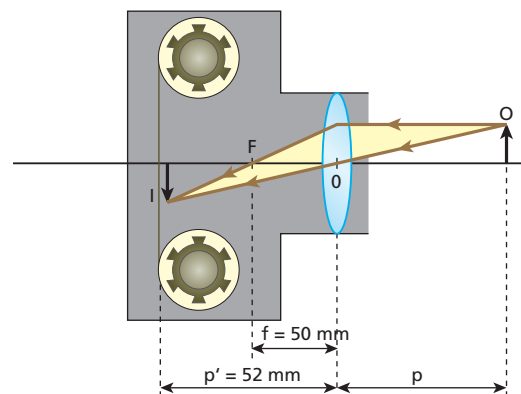


Para se obter uma boa foto, é necessário que a imagem do objeto seja formada exatamente sobre o filme e seu tamanho não deve exceder a área sensível do filme. Assim:

- a) Calcule a posição em que o objeto deve ficar em relação à lente.
b) Sabendo que a altura máxima da imagem não pode exceder 36,0 mm, determine a altura máxima do objeto para que ele seja fotografado em toda a sua extensão.

Resolução:

A formação da imagem sobre o filme está esquematizada (fora de escala) abaixo.



- a) **Equação de Gauss:**

$$\frac{1}{f} = \frac{1}{p} + \frac{1}{p'}$$

$$\frac{1}{50} = \frac{1}{p} + \frac{1}{52} \Rightarrow \frac{1}{p} = \frac{1}{50} - \frac{1}{52}$$

$$\frac{1}{p} = \frac{52 - 50}{50 \cdot 52} \Rightarrow p = \frac{50 \cdot 52}{2} \text{ (mm)}$$

$$p = 1300 \text{ mm} = 1,3 \text{ m}$$

- b) $\frac{y'}{y} = -\frac{p'}{p} \Rightarrow \frac{36,0}{y} = -\frac{52}{1300}$

$$y = -900 \text{ mm} \Rightarrow h = 900 \text{ mm} = 90 \text{ cm}$$

Respostas: a) 1,3 m; b) 90 cm

13 Deve ser projetada em uma tela a imagem de um *slide* que se encontra a 5 cm da lente do projetor. Sabendo que a altura do *slide* vale 3 cm e que a da imagem vale 180 cm, determine:

- a) a distância da tela à lente do projetor;
b) a vergência da lente do projetor.

Resolução:

a) $\frac{i}{o} = -\frac{p'}{p}$
 $\frac{180}{3} = -\frac{p'}{5}$
 $p' = 300 \text{ cm} = 3 \text{ m}$

b) $V = \frac{1}{f} = \frac{1}{p} + \frac{1}{p'}$
 $V = \frac{1}{0,05} = \frac{1}{3}$ (di)
 $V \approx 20,3 \text{ di}$

Respostas: a) 3 m; b) $\approx 20,3 \text{ di}$

14 (Mack-SP) Um estudante de Física dispõe de uma lente biconvexa de índice de refração $n = 1,6$ e faces com raios de curvatura iguais a 10 cm. Com essa lente, ele deseja construir um projetor de diapositivos de forma que a película fique a 10 cm dela. Adote $n_{\text{ar}} = 1,0$. A que distância da lente deve ser projetada a imagem da película?

Resolução:

Halley:

$$\frac{1}{f} = (n_{2,1} - 1) \left(\frac{1}{R_1} + \frac{1}{R_2} \right)$$

$$\frac{1}{f} = (1,6 - 1) \cdot \left(\frac{2}{10} \right) \Rightarrow \frac{1}{f} = 0,12 \text{ cm}^{-1}$$

Gauss:

$$\frac{1}{f} = \frac{1}{p} + \frac{1}{p'} \Rightarrow 0,12 = \frac{1}{10} + \frac{1}{p'} \Rightarrow p' = 50 \text{ cm}$$

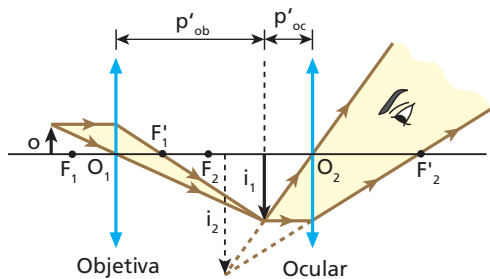
Resposta: 50 cm

15 E.R. Um microscópio composto é constituído de dois sistemas convergentes de lentes, associados coaxialmente: um é a objetiva, com distância focal de 4 mm, e o outro é a ocular, com distância focal de 6 cm. De um objeto distante 5 mm da objetiva o microscópio fornece uma imagem virtual, afastada 78 cm da ocular. Determine:

- a) o aumento produzido pela objetiva;
- b) o aumento produzido pela ocular;
- c) a ampliação produzida pelo microscópio;
- d) a distância da objetiva à ocular.

Resolução:

O esquema seguinte representa a situação proposta:



a) Para a objetiva:

$$\frac{1}{f_{ob}} = \frac{1}{p_{ob}} + \frac{1}{p'_{ob}}$$

Com $f_{ob} = 4 \text{ mm}$ e $p_{ob} = 5 \text{ mm}$, calculamos p'_{ob} :

$$\frac{1}{4} = \frac{1}{5} + \frac{1}{p'_{ob}} \Rightarrow p'_{ob} = 20 \text{ mm} = 2 \text{ cm}$$

Logo, o aumento produzido pela objetiva é calculado por:

$$A_{ob} = -\frac{p'_{ob}}{p_{ob}} = -\frac{20 \text{ mm}}{5 \text{ mm}}$$

$$A_{ob} = -4$$

b) Para a ocular:

$$\frac{1}{f_{oc}} = \frac{1}{p_{oc}} + \frac{1}{p'_{oc}}$$

Com $f_{oc} = 6 \text{ cm}$ e $p'_{oc} = -78 \text{ cm}$, calculamos p_{oc} :

$$\frac{1}{6} = \frac{1}{p_{oc}} - \frac{1}{78} \Rightarrow p_{oc} \approx 5,6 \text{ cm}$$

Logo, o aumento produzido pela ocular é calculado por:

$$A_{oc} = -\frac{p'_{oc}}{p_{oc}} = -\frac{(-78 \text{ cm})}{5,6 \text{ cm}} \Rightarrow A_{oc} = 14$$

c) Para o microscópio, a ampliação fica determinada por:

$$|A| = |A_{ob}| \cdot |A_{oc}|$$

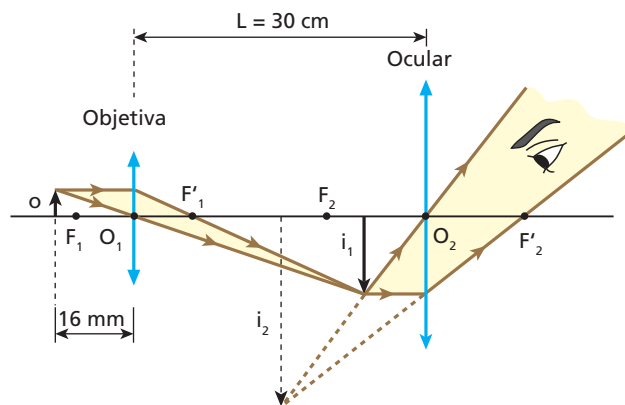
$$|A| = 4 \cdot 14 \Rightarrow |A| = 56$$

d) A distância da objetiva à ocular d é tal que:

$$d = p'_{ob} + p_{oc}$$

$$d = 2 \text{ cm} + 5,6 \text{ cm} \Rightarrow d = 7,6 \text{ cm}$$

16 A figura a seguir representa esquematicamente um microscópio óptico constituído por dois sistemas convergentes de lentes, dispostos coaxialmente: um é a objetiva, com distância focal de 15 mm, e o outro é a ocular, com distância focal de 9,0 cm.



Sabendo que para o objeto o o microscópio fornece a imagem final i_2 , calcule o módulo do aumento linear transversal produzido pelo instrumento.

Resolução:

O valor absoluto do aumento linear transversal fornecido pelo microscópio é dado por:

$$|A| = |A_{ob}| \cdot |A_{oc}|$$

1) Cálculo de $|A_{ob}|$:

$$\frac{1}{f_{ob}} = \frac{1}{p_{ob}} + \frac{1}{p'_{ob}} \Rightarrow \frac{1}{15} = \frac{1}{16} + \frac{1}{p'_{ob}}$$

$$p'_{ob} = 240 \text{ mm} = 24 \text{ cm}$$

$$A_{ob} = -\frac{p'_{ob}}{p_{ob}} \Rightarrow A_{ob} = -\frac{240 \text{ mm}}{16 \text{ mm}}$$

$$|A_{ob}| = 15$$

2) Cálculo de $|A_{oc}|$:

$$p'_{ob} + p_{oc} = L \Rightarrow 24 \text{ cm} + p_{oc} = 30 \text{ cm}$$

$$p_{oc} = 6,0 \text{ cm}$$

$$\frac{1}{f_{oc}} = \frac{1}{p_{oc}} + \frac{1}{p'_{oc}} \Rightarrow \frac{1}{9,0} = \frac{1}{6,0} + \frac{1}{p'_{oc}}$$

$$p'_{oc} = -18 \text{ cm}$$

$$A_{oc} = -\frac{p'_{oc}}{p_{oc}} = -\frac{(-18 \text{ cm})}{6,0 \text{ cm}} \Rightarrow |A_{oc}| = 3$$

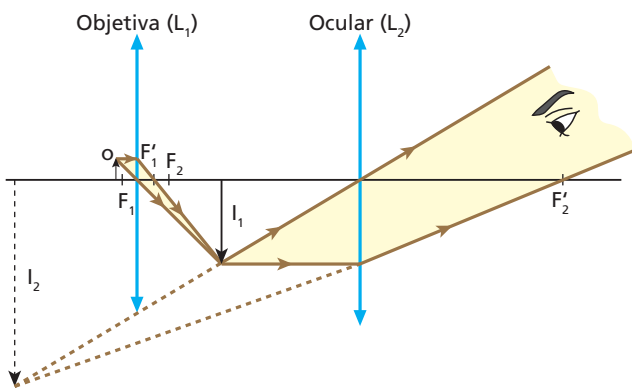
Com $|A_{ob}|$ e $|A_{oc}|$ calculados, vem:

$$|A| = 15 \cdot 3 \Rightarrow |A| = 45$$

O microscópio considerado fornece um aumento linear transversal de 45 vezes.

Resposta: 45 vezes

17 A figura a seguir mostra um esquema da formação de imagem em um microscópio óptico composto, constituído por duas lentes convergentes, associadas coaxialmente: uma é a objetiva, com distância de 4 mm, e a outra é a ocular, com distância focal de 6 cm.



Sabendo-se que um pequeno objeto iluminado, colocado a uma distância igual a 5 mm da objetiva, fornece uma imagem final virtual (I_2), afastada 72 cm da ocular, pede-se para calcular o módulo do aumento total fornecido pelo instrumento.

Resolução:

(I) Em relação à objetiva:

$$A_{ob} = \frac{f_{ob}}{f_{ob} - p_{ob}} \Rightarrow A_{ob} = \frac{4}{4 - 5}$$

Donde: $A_{ob} = -4$

(II) Em relação à ocular:

$$\frac{1}{f_{oc}} = \frac{1}{p_{oc}} + \frac{1}{p'_{oc}} \Rightarrow \frac{1}{6} = \frac{1}{p_{oc}} + \frac{1}{72}$$

$$\frac{1}{p_{oc}} = \frac{1}{6} + \frac{1}{72} = \frac{12 + 1}{72}$$

Donde: $p_{oc} = \frac{72}{13} \text{ cm}$

$$A_{oc} = -\frac{p'_{oc}}{p_{oc}} \Rightarrow A_{oc} = -\frac{(-72)}{\frac{72}{13}}$$

Logo: $A_{oc} = 13$

(III) Em relação ao microscópio:

$$A = \frac{i_2}{o} = \frac{i_1}{o} \cdot \frac{i_2}{i_1}$$

Donde: $A = A_{ob} \cdot A_{oc}$

$$|A| = |A_{ob}| \cdot |A_{oc}| \Rightarrow |A| = 4 \cdot 13$$

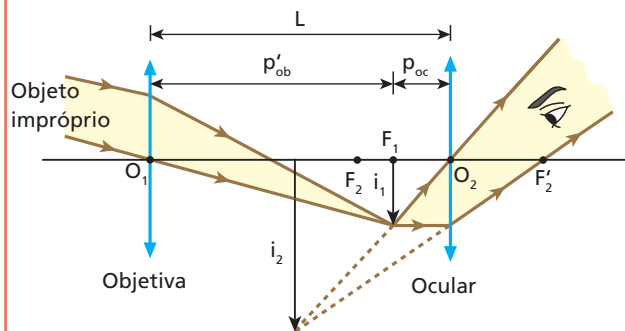
$$|A| = 52$$

Resposta: 52 vezes

18 E.R. Uma luneta é constituída de uma objetiva e uma ocular, associadas coaxialmente e acopladas a um tubo, cujo interior é fosco. Com o uso do referido instrumento, focaliza-se um corpo celeste e a imagem final visada pelo observador forma-se a 60 cm da ocular. Sabendo que a objetiva e a ocular têm distâncias focais de 80 cm e 20 cm, respectivamente, calcule o comprimento da luneta (distância entre a objetiva e a ocular).

Resolução:

O esquema seguinte ilustra a situação proposta:



O comprimento da luneta (L) é tal que:

$$L = p'_{ob} + p_{oc}$$

O corpo celeste, estando muito afastado da luneta, comporta-se como objeto impróprio para a objetiva, que conjuga a ele uma imagem em seu plano focal. Assim, podemos escrever que:

$$p'_{ob} \approx f_{ob} = 80 \text{ cm}$$

A imagem produzida pela objetiva faz o papel de objeto real para a ocular, que dá a imagem final virtual visada pelo observador.

Em relação à ocular, tem-se que:

$$\frac{1}{f_{oc}} = \frac{1}{p_{oc}} + \frac{1}{p'_{oc}} \Rightarrow \frac{1}{20} = \frac{1}{p_{oc}} - \frac{1}{60}$$

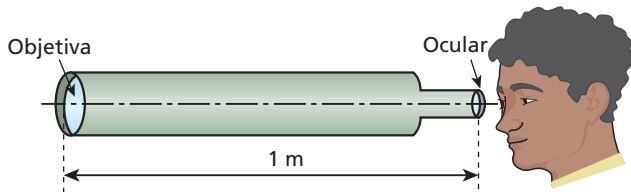
$$\frac{1}{p_{oc}} = \frac{1}{20} + \frac{1}{60} \Rightarrow p_{oc} = 15 \text{ cm}$$

Com $p'_{ob} \approx 80 \text{ cm}$ e $p_{oc} = 15 \text{ cm}$, determinamos o comprimento da luneta:

$$L = p'_{ob} + p_{oc} = 80 \text{ cm} + 15 \text{ cm}$$

$$L = 95 \text{ cm}$$

19 O esquema abaixo ilustra uma luneta rudimentar, em que tanto a objetiva como a ocular são sistemas refratores convergentes. O instrumento está focalizado para um astro muito afastado e sua objetiva dista 1 m da ocular, cuja abscissa focal vale 4 cm. Sabendo que a imagem final visada pelo observador se situa a 12 cm da ocular, calcule a abscissa focal da objetiva.



Resolução:

Em relação à ocular:

$$\frac{1}{f_{oc}} = \frac{1}{p_{oc}} + \frac{1}{p'_{oc}} \Rightarrow \frac{1}{4} = \frac{1}{p_{oc}} - \frac{1}{12}$$

$$p_{oc} = 3 \text{ cm}$$

Em relação à objetiva:

$$L = p'_{ob} + p_{oc} \Rightarrow 100 \text{ cm} = p'_{ob} + 3 \text{ cm}$$

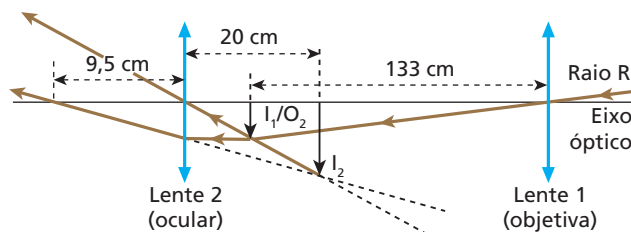
$$p'_{ob} = 97 \text{ cm}$$

O objeto visado é, para a objetiva, **impróprio**. Por isso:

$$f_{ob} \approx p'_{ob} = 97 \text{ cm}$$

Resposta: 97 cm

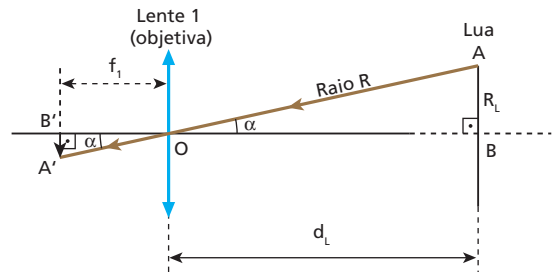
20 (Unicamp-SP) Um dos telescópios usados por Galileu por volta do ano de 1610 era composto por duas lentes convergentes, uma objetiva (lente 1) e uma ocular (lente 2), de distâncias focais a 133 cm e 9,5 cm, respectivamente. Na observação de objetos celestes, a imagem (I_1) formada pela objetiva situa-se praticamente no seu plano focal. Na figura (fora de escala), o raio R é proveniente da borda do disco lunar e o eixo óptico passa pelo centro da Lua.



- a) A Lua tem 1 750 km de raio e fica a aproximadamente 384 000 km da Terra. Qual é o raio da imagem da Lua (I_1) formada pela objetiva do telescópio de Galileu?
- b) Uma segunda imagem (I_2) é produzida pela ocular a partir daquela formada pela objetiva (a imagem da objetiva (I_1) torna-se objeto (O_2) para a ocular). Essa segunda imagem é virtual e situa-se a 20 cm da lente ocular. A que distância a ocular deve ficar da objetiva do telescópio para que isso ocorra?

Resolução:

a)

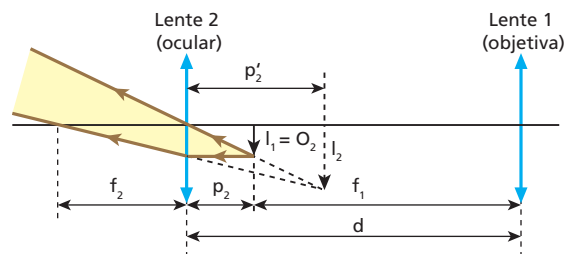


Da semelhança entre os triângulos ABO e A'B'O, vem:

$$\frac{R_{I_1}}{f_1} = \frac{R_L}{d_L} \Rightarrow \frac{R_{I_1}}{133} = \frac{1750}{384000}$$

$$R_{I_1} \approx 0,61 \text{ cm}$$

b)



1) Aplicando a Equação de Gauss, vem:

$$\frac{1}{f_2} = \frac{1}{p_2} + \frac{1}{p'_2}$$

$$\frac{1}{9,5} = \frac{1}{p_2} + \frac{1}{(-20)}$$

$$\frac{1}{20} = \frac{1}{9,5} + \frac{1}{p_2}$$

$$\frac{1}{p_2} = \frac{29,5}{190}$$

$$p_2 \approx 6,4 \text{ cm}$$

2) A distância entre as lentes é dada por:

$$d = p_2 = f_1$$

$$d = 6,4 + 133 \text{ (cm)}$$

$$d \approx 139,4 \text{ cm}$$

Respostas: a) $R_{I_1} \approx 0,61 \text{ cm}$; b) $d \approx 139,4 \text{ cm}$

21

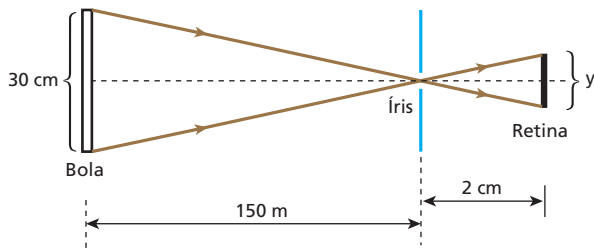
(Uerj) Uma partida de futebol, jogada com uma bola de 30 cm de diâmetro, é observada por um torcedor. A distância da íris à retina desse torcedor é aproximadamente igual a 2 cm. O tamanho da imagem da bola, em micrômetros, que se forma na retina do torcedor, quando a bola está a 150 m de distância, vale, aproximadamente:

Nota: 1 micrômetro = $1 \mu\text{m} = 10^{-6} \text{ m}$

- a) 1.
- b) 40.
- c) 300.
- d) 800.
- e) 900.

Resolução:

Na figura abaixo, está esquematizada, fora de escala, a formação da imagem na retina do olho do torcedor.



Semelhança de triângulos:

$$\frac{30}{150 \cdot 10^2} = \frac{y}{2}$$

$$y = \frac{60}{15 \cdot 10^3} \text{ cm} = 4 \cdot 10^{-3} \text{ cm} = 4 \cdot 10^{-3} \cdot 10^4 \mu\text{m}$$

$$y = 40 \mu\text{m}$$

Resposta: b

22 Um observador visa fixamente um objeto, que se aproxima do seu globo ocular com velocidade constante. Durante a aproximação do objeto, é **correto** afirmar que a distância focal do cristalino do olho do observador:

- a) aumenta.
- b) diminui.
- c) permanece constante.
- d) aumenta, para depois diminuir.
- e) diminui, para depois aumentar.

Resolução:

Utilizando-se a Equação de Gauss:

Objeto distante: $\frac{1}{f_1} = \frac{1}{p_1} + \frac{1}{p'}$

Objeto próximo: $\frac{1}{f_2} = \frac{1}{p_2} + \frac{1}{p'}$

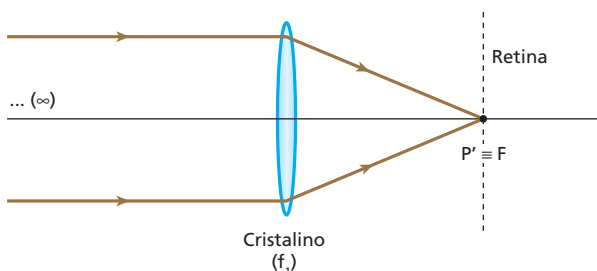
Sendo p' constante ("profundidade" do globo ocular), tem-se:

$$p_2 < p_1 \Rightarrow \frac{1}{p_2} > \frac{1}{p_1}$$

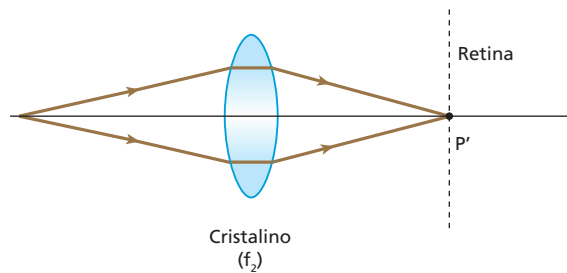
Logo: $\frac{1}{f_2} > \frac{1}{f_1}$

Donde: $f_2 < f_1$

(I) Olho acomodado para um objeto distante:



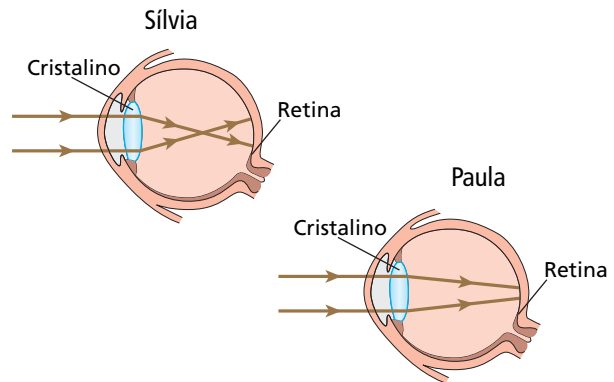
(II) Olho acomodado para um objeto próximo:



$$f_2 < f_1$$

Resposta: b

23 (UFMG) Após examinar os olhos de Sílvia e de Paula, o oftalmologista apresenta suas conclusões a respeito da formação de imagens nos olhos de cada uma delas, na forma de diagramas esquemáticos, como mostrado nestas figuras:



Com base nas informações contidas nessas figuras, é correto afirmar que:

- a) apenas Sílvia precisa corrigir a visão e, para isso, deve usar lentes divergentes.
- b) ambas precisam corrigir a visão e, para isso, Sílvia deve usar lentes convergentes e Paula, lentes divergentes.
- c) apenas Paula precisa corrigir a visão e, para isso, deve usar lentes convergentes.
- d) ambas precisam corrigir a visão e, para isso, Sílvia deve usar lentes divergentes e Paula, lentes convergentes.

Resolução:

Sílvia é míope e a correção da miopia se faz com lentes *divergentes*. Paula é hipermetrope e a correção da hipermetropia se faz com lentes *convergentes*.

Resposta: d

24 (Acafe-SC) O uso de óculos para corrigir defeitos da visão começou no final do século XIII e, como não se conheciam técnicas para o polimento do vidro, as lentes eram rústicas e forneciam imagens deformadas. No período da Renascença, as técnicas foram aperfeiçoadas e surgiu a profissão de fabricante de óculos. Para cada olho defeituoso, existe um tipo conveniente de lente que, associado a ele, corrige a anomalia. Considere a receita abaixo, fornecida por um médico oftalmologista a uma pessoa com dificuldades para enxergar nitidamente objetos afastados.

		Lentes esféricas	Lentes cilíndricas	Eixo	DP
Longe	OD	-2,0 di	—	105°	63 mm
	OE	-2,5 di	—	105°	63 mm
Perto	OD	—	—	—	—
	OE	—	—	—	—

DP – Distância entre os eixos dos olhos

OD – Olho direito

OE – Olho esquerdo

Em relação ao exposto, é **incorreta** a alternativa:

- a) A pessoa apresenta miopia.
- b) A distância focal da lente direita tem módulo igual a 50 cm.
- c) As lentes são divergentes.
- d) Essas lentes podem funcionar como lentes de aumento.
- e) As imagens fornecidas por essas lentes serão virtuais.

Resolução:

a) CORRETA.
Lentes com vergência negativa são indicadas para a correção da miopia.

b) CORRETA.

$$f = \frac{1}{V} \Rightarrow f_{od} = \frac{1}{(-2,0)} \text{ (m)} = -\frac{100}{2,0} \text{ (cm)}$$

$$f_{od} = -50 \text{ cm} \Rightarrow |f_{od}| = 50 \text{ cm}$$

c) CORRETA.
Lentes “negativas” \Rightarrow Divergentes

d) INCORRETA.
Para objetos reais, as imagens produzidas por lentes divergentes são sempre reduzidas (menores).

e) CORRETA.
As lentes divergentes utilizadas na correção da miopia fornecem imagens virtuais.

Resposta: d

25 Para o olho emetropo (ou normal), o ponto remoto é impróprio (localizado no “infinito”), enquanto o ponto próximo situa-se a 25 cm do olho. Admitindo que a distância do cristalino à retina seja de 15 mm, determine:

- a) as distâncias focais do cristalino quando acomodado para o ponto remoto e para o ponto próximo;
- b) a variação da convergência do cristalino quando um objeto é deslocado do ponto remoto para o ponto próximo.

Resolução:

a) Com o olho acomodado para o ponto remoto, têm-se os seguintes dados:

$$p_f \rightarrow \infty \quad p'_1 = 15 \text{ mm} = 1,5 \text{ cm}$$

Calculemos f_1 , que é a distância focal do cristalino para o caso:

$$\frac{1}{f_1} = \frac{1}{\infty} + \frac{1}{1,5} \Rightarrow f_1 = 15 \text{ mm}$$

tende a zero

Com o olho acomodado para o ponto próximo, têm-se os seguintes dados: $p_2 = 25 \text{ cm}$ e $p'_2 = 1,5 \text{ cm}$. Calculemos f_2 , que é a distância focal do cristalino para o caso:

$$\frac{1}{f_2} = \frac{1}{25} + \frac{1}{1,5} \Rightarrow f_2 \approx 14 \text{ mm}$$

b) A convergência do cristalino para o ponto remoto é V_1 , tal que:

$$V_1 = \frac{1}{f_1} = \frac{1}{1,5 \cdot 10^{-2} \text{ m}}$$

A convergência do cristalino para o ponto próximo é V_2 , tal que:

$$V_2 = \frac{1}{f_2} = \frac{1}{25 \cdot 10^{-2} \text{ m}} + \frac{1}{1,5 \cdot 10^{-2} \text{ m}}$$

Do ponto remoto para o próximo, a variação da convergência do cristalino é ΔV , que pode ser dada por:

$$\Delta V = V_2 - V_1$$

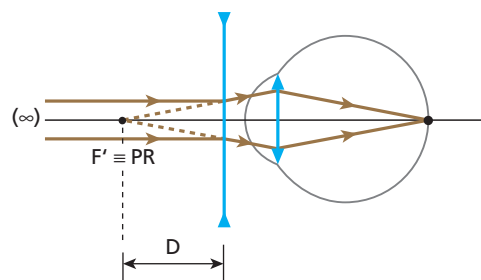
$$\Delta V = \frac{1}{25 \cdot 10^{-2} \text{ m}} + \frac{1}{1,5 \cdot 10^{-2} \text{ m}} - \frac{1}{1,5 \cdot 10^{-2} \text{ m}}$$

Da qual: $\Delta V = 4,0 \text{ m}^{-1} = 4,0 \text{ di}$

Respostas: a) 15 mm, \approx 14 mm; b) 4,0 di

26 E.R. Considere um olho míope. Se seu ponto remoto está a 50 cm de distância, qual o tipo da lente corretiva a ser utilizada (convergente ou divergente) e qual sua vergência? (Considere desprezível a distância entre a lente e o olho.)

Resolução:



Para um objeto impróprio, a lente corretiva deve fornecer uma imagem virtual situada no ponto remoto do olho míope. Essa imagem funciona como objeto real para o olho.

A lente corretiva deve ser divergente e o módulo da sua vergência deve igualar-se ao inverso da distância máxima de visão distinta do olho míope:

$$|V| = \frac{1}{D}$$

$$|V| = \frac{1}{50 \text{ cm}} = \frac{1}{0,50 \text{ m}} \Rightarrow |V| = 2,0 \text{ di}$$

Portanto:

A lente corretiva deve ser divergente e sua vergência deve valer -2,0 di.

27 (UFPR – mod.) No livro *O senhor das moscas*, de William Golding, um grupo de crianças está perdido em uma ilha. Segundo a narração, elas conseguiram fazer fogo usando as lentes dos óculos do personagem Porquinho, que tinha forte miopia.

- A técnica utilizada pelas crianças pode ser empregada na vida real?
- Supondo que Porquinho utilizasse lentes com vergência de módulo igual a 5,0 di, qual a distância máxima de visão distinta sem o auxílio de suas lentes?
- Nas condições do item anterior, determine a abscissa focal e o tipo de lente que deve ser justaposta à lente utilizada por Porquinho para que seja possível atear fogo em um fino graveto colocado perpendicularmente ao eixo principal da associação e a 60 cm dela.

Resolução:

a) Não, pois as lentes corretivas de **Porquinho** são divergentes e, para “concentrar” os raios solares, são necessárias lentes convergentes.

b) $D = \frac{1}{|V|} \Rightarrow D = \frac{1}{5,0}$ (m)

$D = 0,20 \text{ m} = 20 \text{ cm}$

c) $V = V_1 + V_2 \Rightarrow \frac{1}{f} = V_1 + \frac{1}{f_2}$
 $\frac{1}{0,60} = -5,0 + \frac{1}{f_2}$

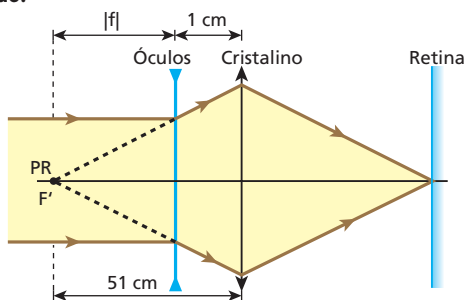
$f_2 = 0,15 \text{ m} = 15 \text{ cm}$ ($f_2 > 0 \Rightarrow$ lente convergente)

Respostas: a) Não, pois as lentes corretivas de Porquinho são divergentes e, para “concentrar” os raios solares, são necessárias lentes convergentes; b) 20 cm; c) 15 cm, convergente

28 (Unitau-SP) O ponto remoto de um míope situa-se a 51 cm de seus olhos. Supondo que seja de 1,0 cm a distância entre seus olhos e as lentes dos óculos, podemos afirmar que, para a correção do defeito visual, podemos usar uma lente de vergência:

- 3,0 di.
- 3,0 di.
- 2,0 di.
- 2,0 di.
- 4,0 di.

Resolução:



$|f| + 1 = 51$

$|f| = 50 \text{ cm} = 0,50 \text{ m}$

$f = -0,50 \text{ m}$

$V = \frac{1}{f} = \frac{1}{(-0,50)}$ di

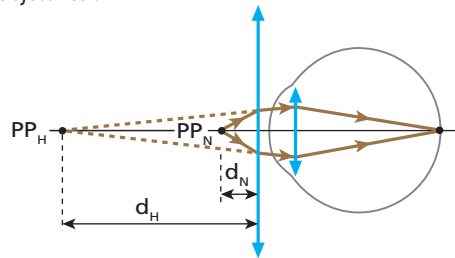
$V = -2,0 \text{ di}$

Resposta: c

29 E.R. Num olho hipermetrope, o ponto próximo situa-se a 50 cm de distância. Sabendo que no olho emetropo a distância mínima de visão distinta vale 25 cm, determine a vergência da lente corretiva para a hipermetropia considerada (despreze a distância da lente corretiva ao olho).

Resolução:

Para um objeto situado no ponto próximo emetropo (normal), a lente corretiva deve produzir uma imagem virtual, posicionada no ponto próximo hipermetrope. Essa imagem desempenha para o olho o papel de objeto real:



A lente corretiva deve ser convergente e sua vergência é calculada conforme segue:

$V = \frac{1}{f} = \frac{1}{p} + \frac{1}{p'}$

Temos $|p| = d_N = 25 \text{ cm} = 0,25 \text{ m}$
 $|p'| = d_H = 50 \text{ cm} = 0,50 \text{ m}$.

Lembrando que a imagem é virtual ($p' < 0$), temos:

$V = \frac{1}{0,25} - \frac{1}{0,50} \Rightarrow V = +2,0 \text{ di}$

Portanto:

A lente corretiva deve ser convergente e sua vergência deve valer +2,0 di.

30 (UFC-CE) Foi convenionado que indivíduos com “visão normal” têm distância máxima de visão distinta infinitamente grande ($D \rightarrow \infty$) e distância mínima de visão distinta igual a 25 cm. Considere uma pessoa que, sem usar lentes de correção, só consegue ver nitidamente objetos colocados em distâncias além de 40 cm de seus olhos. Para que a visão seja “normal”, qual deve ser a dioptria das lentes corretivas?

Resolução:

A pessoa é hipermetrope.

$V = \frac{1}{f} = \frac{1}{p} + \frac{1}{p'}$

$V = \frac{1}{d_N} - \frac{1}{d_H}$

$V = \frac{1}{0,25} - \frac{1}{0,40}$ (di)

Da qual: $V = +1,5 \text{ di}$

Resposta: +1,5 di

31 Um homem, ao consultar seu oculista, recebe a recomendação para usar lentes corretivas com vergência de +3,0 di. Sabe-se que na visão normal o ponto próximo situa-se a 25 cm do olho.

- O homem é míope ou hipermetrope?
- A que distância mínima dos olhos do homem deverá colocar um jornal, para que possa ler sem óculos?

Resolução:

a) O homem é **hipermetrope**, pois a vergência de suas lentes corretivas é positiva (+3,0 di).

$$b) V = \frac{1}{f} = \frac{1}{p} + \frac{1}{p'}$$

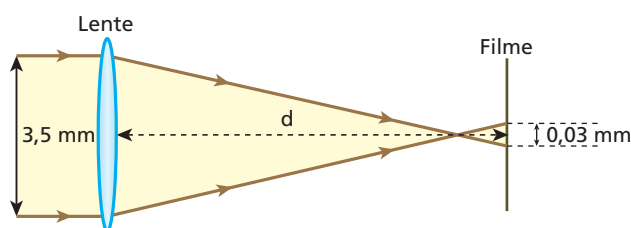
Como $V = +3,0$ di e $p = d_N = 25 \text{ cm} = 0,25 \text{ m}$, calculemos p' :

$$+3,0 = \frac{1}{0,25} + \frac{1}{p'} \Rightarrow p' = -1,0 \text{ m}$$

$$d_H = |p'| = 1,0 \text{ m}$$

Respostas: a) Hipermetrope; b) 1,0 m

32 (Unicamp-SP) Em uma máquina fotográfica de foco fixo, a imagem de um ponto no infinito é formada **antes** do filme, conforme ilustra o esquema.

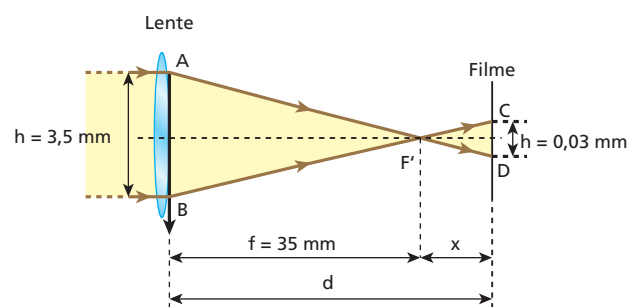


No filme, esse ponto está ligeiramente desfocado e sua imagem tem 0,03 mm de diâmetro. Mesmo assim, as cópias ampliadas ainda são nítidas para o olho humano. A abertura para a entrada de luz é de 3,5 mm de diâmetro e a distância focal da lente é de 35 mm.

- Calcule a distância d do filme à lente.
- A que distância da lente um objeto precisa estar para que sua imagem fique exatamente focalizada no filme?

Resolução:

a) 1) Como o objeto se encontra no infinito, os raios de luz dele provenientes incidem paralelamente ao eixo principal da lente (convergente) e conseqüentemente emergem desta em uma direção que passa pelo foco imagem principal (F'). Esquemáticamente, temos:



2) Da semelhança entre os triângulos $AF'B$ e $DF'C$, vem:

$$\frac{H}{h} = \frac{f}{x}$$

$$\frac{3,5}{0,03} = \frac{35}{x}$$

$$x = 0,3 \text{ mm}$$

3) Da figura, temos:

$$d = f + x$$

$$d = 35 + 0,3 \text{ (mm)}$$

$$d = 35,3 \text{ mm}$$

b) Utilizando a Equação de Gauss, vem:

$$\frac{1}{f} = \frac{1}{p} + \frac{1}{p'}$$

$$\frac{1}{35} = \frac{1}{p} + \frac{1}{35,3}$$

$$\text{Da qual: } p \approx 4\,118 \text{ mm}$$

Respostas: a) 35,3 mm; b) $\approx 4\,118$ mm

33 Um projetor rudimentar fornece, para um *slide* quadrado de 5,0 cm de lado, uma imagem também quadrada, porém com 50 cm de lado. Sabendo que a objetiva do projetor é constituída pela justaposição de duas lentes com vergências de $-1,0$ di e $+6,0$ di, calcule:

- a distância do *slide* ao centro óptico da objetiva;
- a distância da tela ao centro óptico da objetiva.

Resolução:

a) A ampliação linear transversal fornecida pelo sistema é negativa (imagem invertida) e calculada por:

$$A = \frac{i}{o} \Rightarrow A = -\frac{50 \text{ cm}}{5 \text{ cm}} \Rightarrow A = -10$$

A vergência da objetiva é dada conforme segue:

$$V = V_1 + V_2 = -1 \text{ di} + 6 \text{ di}$$

$$V = +5 \text{ di (sistema convergente)}$$

A distância focal da objetiva é dada por:

$$f = \frac{1}{V} \Rightarrow f = \frac{1}{5 \text{ di}} = 0,20 \text{ m}$$

$$f = 20 \text{ cm}$$

$$\text{É sabido que: } A = -\frac{f}{f-p}$$

Com $A = -10$ e $f = 20 \text{ cm}$, calculemos p , que é a distância do *slide* ao centro óptico da objetiva:

$$-10 = \frac{20}{20-p} \Rightarrow p = 22 \text{ cm}$$

$$b) A = -\frac{p'}{p}$$

Com $A = -10$ e $p = 22 \text{ cm}$, calculemos p' , que é a distância da tela ao centro óptico da objetiva:

$$-10 = -\frac{p'}{22 \text{ cm}} \Rightarrow p' = 220 \text{ cm} = 2,2 \text{ m}$$

Respostas: a) 22 cm; b) 2,2 m

34 (Vunesp-SP) Dispondo-se de duas lentes convergentes de distâncias focais iguais a 1,00 cm, colocadas a uma distância d uma da outra e com seus eixos principais coincidentes, pretende-se obter uma imagem virtual 100 vezes ampliada de um pequeno objeto colocado a 2,00 cm da primeira lente. Qual deve ser a distância entre as lentes?

Resolução:

$$\frac{1}{f_{ob}} = \frac{1}{p_{ob}} + \frac{1}{p'_{ob}} \Rightarrow \frac{1}{1,00} = \frac{1}{2,00} + \frac{1}{p'_{ob}}$$

$$p'_{ob} = 2,00 \text{ cm}$$

$$d = p'_{ob} + p_{oc} \Rightarrow p_{oc} = d - 2,00 \quad (I)$$

$$|A| = |A_{ob}| \cdot |A_{oc}| \Rightarrow |A| = \frac{|p'_{ob}|}{|p_{ob}|} \cdot \frac{|p'_{oc}|}{|p_{oc}|}$$

$$100 = \frac{2,00}{2,00} \cdot \frac{|p'_{oc}|}{|p_{oc}|} \quad (II)$$

Substituindo-se (I) em (II):

$$100 = \frac{|p'_{oc}|}{d - 2,00} \Rightarrow p'_{oc} = -100 \cdot (d - 2,00) \quad (III)$$

Nota: $p'_{oc} < 0$, pois a imagem é virtual.

$$\frac{1}{f_{oc}} = \frac{1}{p_{oc}} + \frac{1}{p'_{oc}} \Rightarrow \frac{1}{1,00} = \frac{1}{p_{oc}} + \frac{1}{p'_{oc}} \quad (IV)$$

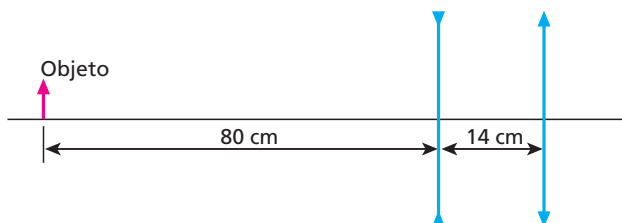
Substituindo-se (I) e (III) em (IV):

$$\frac{1}{1,00} = \frac{1}{d - 2,00} - \frac{1}{100(d - 2,00)}$$

Da qual: $d = 2,99 \text{ cm}$

Resposta: 2,99 cm

35 (ITA-SP) A figura mostra um instrumento óptico constituído de uma lente divergente, com distância focal $f_1 = -20 \text{ cm}$, distante 14 cm de uma lente convergente, com distância focal $f_2 = 20 \text{ cm}$. Se um objeto linear é posicionado a 80 cm à esquerda da lente divergente, pode-se afirmar que a imagem definitiva formada pelo sistema:



- é real e o fator de ampliação linear do instrumento é $-0,4$.
- é virtual, menor e direita em relação ao objeto.
- é real, maior e invertida em relação ao objeto.
- é real e o fator de ampliação linear do instrumento é $-0,2$.
- é virtual, maior e invertida em relação ao objeto.

Resolução:

Seja L_1 a lente divergente e L_2 a lente convergente.

Em relação a L_1 , temos:

$$\text{Equação de Gauss: } \frac{1}{f_1} = \frac{1}{p_1} + \frac{1}{p'_1}$$

$$-\frac{1}{20} = \frac{1}{80} + \frac{1}{p'_1} \Rightarrow p'_1 = -16 \text{ cm}$$

A imagem produzida por L_1 é virtual e está situada 16 cm à esquerda dessa lente. O aumento linear provocado por L_1 fica determinado por:

$$A_1 = -\frac{p'_1}{p_1} \Rightarrow A_1 = -\frac{(-16)}{80} \Rightarrow A_1 = \frac{1}{5}$$

A imagem produzida por L_1 é direita e menor que o objeto e funciona como objeto real para L_2 .

Em relação a L_2 , temos:

$$\text{Equação de Gauss: } \frac{1}{f_2} = \frac{1}{p_2} + \frac{1}{p'_2}$$

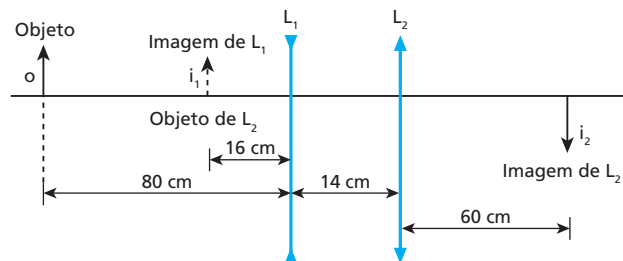
$$\frac{1}{20} = \frac{1}{16 + 14} + \frac{1}{p'_2} \Rightarrow p'_2 = 60 \text{ cm}$$

A imagem produzida por L_2 é real e está situada a 60 cm à direita dessa lente. O aumento linear provocado por L_2 fica determinado por:

$$A_2 = -\frac{p'_2}{p_2} \Rightarrow A_2 = -\frac{60}{30} \Rightarrow A_2 = -2$$

A imagem produzida por L_2 é invertida e maior que o objeto que lhe deu origem.

O esquema abaixo ilustra a situação proposta:



O aumento linear transversal produzido pelo sistema é dado por:

$$A_{sist} = \frac{i_2}{o} = \frac{i_1}{o} \cdot \frac{i_2}{i_1}$$

$$A_{sist} = A_1 \cdot A_2 \Rightarrow A_{sist} = \frac{1}{5} \cdot (-2)$$

$$A_{sist} = -0,4$$

Resposta: a

36 (UFC-CE) "O maior telescópio do mundo, o VLT (sigla em inglês para 'telescópio muito grande'), instalado em Cerro Paranal (Chile), começou a funcionar parcialmente na madrugada de ontem [...] Segundo o astrônomo João Steiner, quanto maior o espelho do telescópio, mais luz vinda do espaço ele coleta, numa proporção direta. O espelho do VLT tem um diâmetro de 16 m. O maior espelho em operação atualmente, instalado no telescópio Cech, no Havaí (EUA), tem diâmetro de 10 m." (Folha de S.Paulo, 27/5/1998.)

Supondo que a única diferença entre o VLT e o Ceck seja o diâmetro dos seus espelhos, podemos afirmar que a quantidade de luz coletada pelo VLT, no intervalo de 1 h, é, aproximadamente:

- a) igual a 0,25 vezes a quantidade de luz coletada pelo Ceck, nesse mesmo intervalo.
- b) igual à quantidade de luz coletada pelo Ceck, nesse mesmo intervalo.
- c) igual a 1,60 vezes a quantidade de luz coletada pelo Ceck, nesse mesmo intervalo.
- d) igual a 2,56 vezes a quantidade de luz coletada pelo Ceck, nesse mesmo intervalo.
- e) igual a 3,20 vezes a quantidade de luz coletada pelo Ceck, nesse mesmo intervalo.

Resolução:

Seja I a quantidade de luz coletada pelo espelho do telescópio durante 1 h. Conforme o enunciado, I é proporcional à área A do espelho.

$$I = KA \Rightarrow I = \frac{K\pi D^2}{4}$$

Assim:

$$\frac{I_{VLT}}{I_{Ceck}} = \frac{\frac{K\pi D_{VLT}^2}{4}}{\frac{K\pi D_{Ceck}^2}{4}} = \left(\frac{D_{VLT}}{D_{Ceck}}\right)^2$$

$$\frac{I_{VLT}}{I_{Ceck}} = \left(\frac{16}{10}\right)^2 \Rightarrow I_{VLT} = 2,56 I_{Ceck}$$

Resposta: d

37 (PUC-SP) Uma luneta foi construída com duas lentes convergentes de distâncias focais respectivamente iguais a 100 cm e 10 cm. Uma pessoa de vista normal regula a luneta para observar a Lua e depois focaliza um objeto situado a 20 metros de distância. Para tanto, deve deslocar a ocular em aproximadamente:

- a) 10 cm, aproximando-a da objetiva.
- b) 10 cm, afastando-a da objetiva.
- c) 5 cm, aproximando-a da objetiva.
- d) 5 cm, afastando-a da objetiva.
- e) 1 cm, afastando-a da objetiva.

Resolução:

Em relação à observação da Lua, temos:

$$L_1 = f_{ob} + p_{oc} \Rightarrow L_1 = 100 + p_{oc} \quad (I)$$

Em relação à observação do objeto distante 20 m da objetiva, temos:

$$\frac{1}{f_{ob}} = \frac{1}{p_{ob}} + \frac{1}{p'_{ob}} \Rightarrow \frac{1}{100} = \frac{1}{2000} + \frac{1}{p'_{ob}}$$

Da qual: $p'_{ob} \approx 105$ cm

$$L_2 = p'_{ob} + p_{oc} \Rightarrow L_2 = 105 + p_{oc} \quad (II)$$

Comparando (I) e (II), podemos concluir que, do primeiro para o segundo caso, o comprimento da luneta aumenta 5 cm, o que pode ser feito afastando-se a ocular da objetiva.

Observe que p_{oc} foi considerado o mesmo nos dois casos, pois a ocular (lupa) deve fornecer uma imagem final no ponto próximo do olho do observador, suposto em contato com a citada lente. Com isso, nas duas situações, o observador percebe máxima ampliação.

Resposta: d

38 (Ufla-MG) O funcionamento de uma máquina fotográfica é semelhante ao olho humano. Quando o olho humano está fixado em um objeto distante, o músculo ciliar relaxa e o sistema córnea-cristalino atinge sua máxima distância focal, que corresponde à distância da córnea à retina. Quando o objeto está próximo ao olho humano, o músculo ciliar se contrai e aumenta a curvatura do cristalino, diminuindo, assim, a distância focal até que o objeto seja focalizado corretamente na retina, sendo esse processo chamado de acomodação. Considerando a máxima distância focal igual a 2,5 cm, pode-se afirmar que a variação da distância focal Δf do sistema córnea-cristalino do olho para manter em foco um objeto que é deslocado do infinito até um ponto próximo padrão de 25 cm é:

- a) $+\frac{2,5}{11}$ cm.
- b) 2,27 cm.
- c) $-\frac{2,5}{11}$ cm.
- d) -2,27 cm.
- e) 0.

Resolução:

(I) A distância focal f_R (máxima), com o olho acomodado para um objeto situado no ponto remoto ($p_R \rightarrow \infty$), é a própria distância do cristalino à retina.

$$f_R = 2,5 \text{ cm}$$

(II) A distância focal f_p (mínima), com o olho acomodado para um objeto situado no ponto próximo ($p_p = 25$ cm), fica determinada pela Equação de Gauss:

$$\frac{1}{f_p} = \frac{1}{p_p} + \frac{1}{p'_p} \Rightarrow \frac{1}{f_p} = \frac{1}{25} + \frac{1}{2,5}$$

$$\frac{1}{f_p} = \frac{1+10}{25} \Rightarrow f_p = \frac{25}{11} \text{ cm}$$

(III) A variação de distância focal Δf do sistema córnea-cristalino, quando o objeto é deslocado do infinito até o ponto próximo, fica dada por:

$$\Delta f = f_p - f_R$$

$$\Delta f = \frac{25}{11} - 2,5 \text{ (cm)} \Rightarrow \Delta f = \frac{25 - 27,5}{11} \text{ (cm)}$$

Donde: $\Delta f = -\frac{2,5}{11} \text{ cm}$

Resposta: c

39 Considere as duas pessoas representadas a seguir. Devido às suas lentes corretivas, a da figura 1 aparenta ter os olhos muito pequenos em relação ao tamanho do seu rosto, ocorrendo o oposto com a pessoa da figura 2:




Figura 1

Figura 2

É correto concluir que:

- a pessoa da figura 1 é míope e usa lentes convergentes.
- a pessoa da figura 1 é hipermetrope e usa lentes divergentes.
- a pessoa da figura 2 é míope e usa lentes divergentes.
- a pessoa da figura 2 é hipermetrope e usa lentes convergentes.
- as duas pessoas têm o mesmo defeito visual.

Resposta: d

40 (Vunesp-Fameca-SP) Sabe-se que o olho humano tem uma amplitude de acomodação visual que nos permite enxergar, normalmente, entre o ponto próximo (cerca de 25 cm) até o ponto remoto (infinito). No entanto, por vários fatores, ocorrem algumas anomalias visuais em uma parcela significativa da população. Acerca dessas anomalias, pode-se afirmar que, para corrigir o ponto:

- remoto a 50 cm de um olho míope, é preciso usar lente convergente de 2,0 di de vergência.
- remoto a 50 cm de um olho hipermetrope, é preciso usar lente divergente de -2,0 di de vergência.
- remoto a 50 cm de um olho míope, é preciso usar lente divergente de -2,0 di de vergência.
- próximo a 50 cm de um olho hipermetrope, é preciso usar lente divergente de -2,0 di de vergência.
- próximo a 50 cm de um olho hipermetrope, é preciso usar lente convergente de 1,0 di de vergência.

Resolução:

(I) Correção da miopia: lente divergente com o ponto remoto a 50 cm do olho.

$$V = -\frac{1}{D} \Rightarrow V = -\frac{1}{0,50} \text{ (di)}$$

$$V = -2,0 \text{ di}$$

(II) Correção de hipermetropia: lente convergente com o ponto próximo a 50 cm do olho.

$$V = \frac{1}{d_N} - \frac{1}{d_H} \Rightarrow V = \frac{1}{0,25} - \frac{1}{0,50} \text{ (di)}$$

$$V = 4,0 - 2,0 \text{ (di)} \Rightarrow V = 2,0 \text{ di}$$

Resposta: c

41 (Unifesp-SP) As figuras mostram o Nicodemus, símbolo da Associação Atlética dos estudantes da Unifesp, ligeiramente modificado: foram acrescentados olhos na 1ª figura e óculos transparentes na 2ª.



Figura 1



Figura 2

- Supondo que ele esteja usando os óculos devido a um defeito de visão, compare as duas figuras e responda: Qual pode ser esse provável defeito? As lentes dos óculos são convergentes ou divergentes?
- Considerando que a imagem do olho do Nicodemus com os óculos seja 25% maior que o tamanho real do olho e que a distância do olho à lente dos óculos seja de 2 cm, determine a vergência das lentes usadas pelo Nicodemus, em dioptrias.

Resolução:

- De acordo com a figura, a imagem do olho é maior que o seu tamanho real, isto é, a imagem é ampliada e por isso a lente usada só pode ser convergente, pois as lentes divergentes, para um objeto real, fornecem imagens sempre virtuais, diretas e reduzidas.

O provável defeito de visão que é corrigido com lentes convergentes é a hipermetropia.

O defeito de visão chamado de presbiopia pode ser também corrigido com lentes convergentes.

- $A = 1,25$ e $p = 2$ cm

Usando a Equação do Aumento Linear:

$$A = \frac{f}{f-p} \Rightarrow 1,25 = \frac{f}{f-2}$$

$$1,25f - 2,5 = f$$

$$0,25f = 2,5 \Rightarrow f = 10 \text{ cm} = 0,1 \text{ m}$$

A vergência V é dada por:

$$V = \frac{1}{f} = \frac{1}{0,1} \text{ di} \Rightarrow V = 10 \text{ di}$$

Respostas: a) Hipermetropia, convergente; b) 10 di

42 Uma lupa com 5,0 cm de distância focal é utilizada por um estudante para observar um inseto de 2,0 mm de comprimento, situado sobre uma superfície iluminada. Sabe-se que a distância mínima de visão distinta do estudante vale 25 cm e que o inseto é colocado a 4,0 cm da lupa.

- A que distância da lupa o estudante deverá posicionar seu globo ocular para perceber a imagem do inseto com tamanho máximo?
- Qual o aumento linear transversal produzido pela lupa e qual o comprimento da imagem do inseto?

Resolução:

$$\text{a) } \frac{1}{f} = \frac{1}{p} + \frac{1}{p'} \Rightarrow \frac{1}{5,0} = \frac{1}{4,0} + \frac{1}{p'}$$

$$p' = -20 \text{ cm}$$

A imagem será observada com tamanho máximo se o estudante a contemplar sob o maior ângulo visual possível. Para que isso ocorra:

$$|p'| + d = 25 \text{ cm} \Rightarrow 20 + d = 25$$

$$d = 5,0 \text{ cm}$$

$$\text{b) } A = -\frac{p'}{p} = -\frac{(-20)}{4,0} \Rightarrow A = 5,0$$

$$|A| = \frac{|i|}{o} \Rightarrow 5,0 = \frac{|i|}{2,0} \Rightarrow |i| = 10 \text{ mm}$$

Respostas: a) 5,0 cm; b) 5 vezes, 10 mm

43 Um homem idoso que “sofre da vista” (presbiopia) tem os pontos próximo e remoto distantes de seus olhos 1,0 m e 2,0 m respectivamente. Sabe-se que a distância mínima de visão distinta normal é de 25 cm e que o homem possui dois óculos: **A** (para ver de longe) e **B** (para ver de perto).

- a) Qual a vergência das lentes dos óculos **A**?
- b) Qual a vergência das lentes dos óculos **B**?

Resolução:

a) $|f| = D \Rightarrow |f| = 2,0 \text{ m}$

$$|V| = \frac{1}{|f|} = \frac{1}{2,0} \Rightarrow |V| = 0,50 \text{ di}$$

$$V = -0,50 \text{ di}$$

As lentes dos óculos **A** são divergentes.

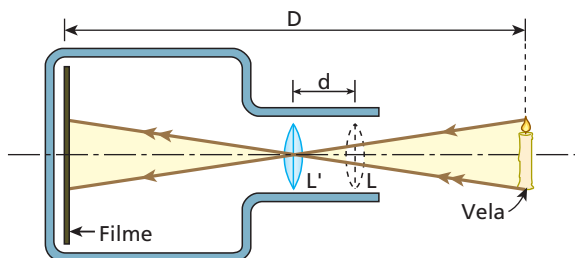
b) $\frac{1}{f} = \frac{1}{d_N} + \frac{1}{d_H} \Rightarrow \frac{1}{f} = \frac{1}{0,25} + \frac{1}{1,0}$

$$V = \frac{1}{f} = +3,0 \text{ di}$$

As lentes dos óculos **B** são convergentes.

Respostas: a) $-0,50 \text{ di}$; b) $+3,0 \text{ di}$

44 Considere a situação esquematizada a seguir, em que uma pequena vela tem sua imagem nitidamente projetada no filme de uma câmera fotográfica para as duas posições **L** e **L'** da lente objetiva do equipamento:



Se **D** é a distância entre a vela e o filme, **d** a distância entre as posições **L** e **L'** e admitindo válidas as condições de Gauss, determine a distância focal **f** da lente.

Resolução:

Lente na posição L: $\frac{1}{f} = \frac{1}{p} + \frac{1}{D-p}$ (I)

Lente na posição L': $\frac{1}{f} = \frac{1}{p+d} + \frac{1}{D-(p+d)}$ (II)

Comparando (I) e (II), vem:

$$\frac{1}{p+d} + \frac{1}{D-(p+d)} = \frac{1}{p} + \frac{1}{D-p}$$

$$\frac{D-(p+d) + (p+d)}{(p+d)D-(p+d)^2} = \frac{D-p+p}{p(D-p)}$$

$$p(D-p) = (p+d)[D-(p+d)]$$

$$Dp - p^2 = D(p+d) - (p+d)^2$$

$$Dp - p^2 = Dp + Dd - p^2 - 2dp - d^2$$

$$2dp = Dd - d^2 \Rightarrow p = \frac{D-d}{2}$$
 (III)

Substituindo em (I), segue que:

$$\frac{1}{f} = \frac{1}{\frac{D-d}{2}} + \frac{1}{D - \frac{D-d}{2}}$$

$$\frac{1}{f} = \frac{2}{D-d} + \frac{2}{D+d}$$

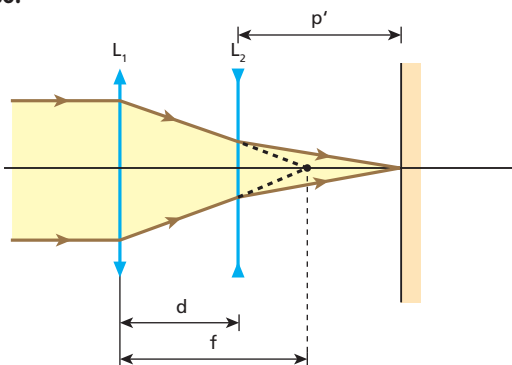
$$\frac{1}{f} = \frac{2 \cdot (D+d) + 2 \cdot (D-d)}{(D+d)(D-d)} \Rightarrow f = \frac{D^2 - d^2}{4D}$$

Resposta: $f = \frac{D^2 - d^2}{4D}$

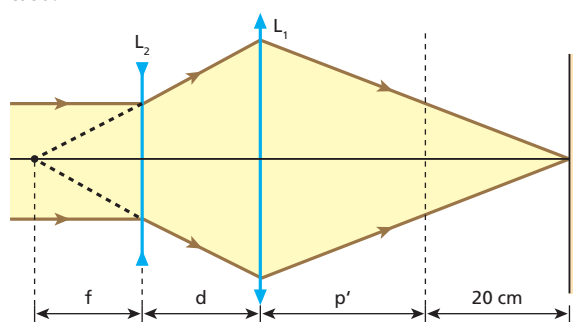
45 (Olimpíada Paulista de Física) Um certo instrumento óptico consta de duas lentes com distâncias focais iguais em módulo. Uma das lentes é convergente e a outra é divergente. As lentes são montadas sobre um eixo comum, a uma determinada distância **d** uma da outra. Sabe-se que se trocarmos a ordem das lentes, mantendo a mesma distância entre elas, a imagem real da Lua, projetada pelo sistema, se desloca de 20 cm. Determine a distância focal de cada uma das lentes.

Resolução:

1º caso:



2º caso:



1º caso: Em relação à lente divergente L_2 , temos:

$$-\frac{1}{f} = -\frac{1}{f-d} + \frac{1}{p'} \Rightarrow \frac{1}{p'} = \frac{1}{f-d} - \frac{1}{f}$$

$$\frac{1}{p'} = \frac{f-f+d}{f(f-d)} \Rightarrow p' = \frac{f(f-d)}{d}$$
 (I)

2º caso: Em relação à lente convergente L_1 , temos:

$$\frac{1}{f} = \frac{1}{f+d} + \frac{1}{p'+20} \Rightarrow \frac{1}{f} - \frac{1}{f+d} = \frac{1}{p'+20}$$

$$\frac{f+d-f}{f(f+d)} = \frac{1}{p'+20} \Rightarrow p'+20 = \frac{f(f+d)}{d}$$
 (II)

Substituindo (I) em (II), vem:

$$\frac{f(f-d)}{d} + 20 = \frac{f(f+d)}{d}$$

$$f^2 - fd + 20d = f^2 + fd \Rightarrow 2fd = 20d \Rightarrow f = 10 \text{ cm}$$

Assim:

• Lente L_1 (convergente): $f_1 = 10 \text{ cm}$

• Lente L_2 (divergente): $f_2 = -10 \text{ cm}$

Resposta: Lente convergente: 10 cm; Lente divergente: -10 cm

46 Sabe-se que, para o olho emetropo, o ponto remoto situa-se no "infinito". Um garoto de vista normal coloca as lentes de contato de sua irmã, cuja convergência é de +2,0 di. Nessas condições, qual passa a ser sua distância máxima de visão distinta?

Resolução:

A distância máxima de visão distinta do garoto é calculada admitindo-se sua vista totalmente relaxada. Nesse caso, seu cristalino apresenta máxima distância focal.

A máxima distância focal do cristalino de um olho emetropo é dada por:

$$\frac{1}{f} = \frac{1}{p} + \frac{1}{p'}$$

Com $p \rightarrow \infty$ e $p' = d$ (distância do cristalino à retina), vem:

$$\frac{1}{f_{\text{olho}}} = \frac{1}{\infty} + \frac{1}{d} \Rightarrow \frac{1}{f_{\text{olho}}} = \frac{1}{d}$$

tende a zero

O cristalino do olho do garoto associado à lente de contato constitui um sistema de lentes justapostas, cuja distância focal equivalente (f_{sistema}) é dada por:

$$\frac{1}{f_{\text{sistema}}} = \frac{1}{f_{\text{olho}}} + \frac{1}{f_{\text{lente}}}$$

Mas: $\frac{1}{f_{\text{olho}}} = \frac{1}{d}$ e $\frac{1}{f_{\text{lente}}} = 2 \text{ di} = \frac{1}{100} \text{ cm}^{-1}$

Portanto: $\frac{1}{f_{\text{sistema}}} = \frac{1}{d} + \frac{1}{50}$ (I)

A distância máxima de visão distinta (**D**) pedida é calculada conforme segue:

$$\frac{1}{f_{\text{sistema}}} = \frac{1}{D} + \frac{1}{d}$$
 (II)

Comparando (I) e (II), vem:

$$\frac{1}{d} + \frac{1}{50} = \frac{1}{D} + \frac{1}{d}$$

Donde: $D = 50 \text{ cm}$

Resposta: 50 cm